

1. Тип 1 № 10865

В кодировке UTF-16 каждый символ кодируется 16 битами. Никита написал текст (в нем нет лишних пробелов):

«Врач, юрист, акушер, инженер, архивист, кардиолог — профессии».

Ученик вычеркнул из списка название одной из профессий. Заодно он вычеркнул ставшие лишними запятыи и пробелы — два пробела не должны идти подряд.

При этом размер нового предложения в данной кодировке оказался на 16 байт меньше, чем размер исходного предложения. Напишите в ответе вычеркнутое название профессии.

2. Тип 2 № 227

От разведчика была получена следующая шифрованная радиограмма, переданная с использованием азбуки Морзе:

—•—•—•—•—•—

При передаче радиограммы было потеряно разбиение на буквы, но известно, что в радиограмме использовались только следующие буквы:

А	Г	М	К	Ю
•—	—•	—	—•	••—

Расшифруйте радиограмму. Запишите в ответе расшифрованную радиограмму.

3. Тип 3 № 10633

Напишите наименьшее целое число x , для которого истинно высказывание:

НЕ ($X < 2$) **И** (X четное).

4. Тип 4 № 103

Между населенными пунктами А, В, С, D, Е построены дороги, протяженность которых (в километрах) приведена в таблице:

	А	В	С	D	Е
А		7	4		
В	7		2		4
С	4	2		4	
D			4		4
Е		4		4	

Определите длину кратчайшего пути между пунктами А и Е. Передвигаться можно только по дорогам, протяженность которых указана в таблице.

5. Тип 5 № 10880

У исполнителя Гамма две команды, которым присвоены номера:

1. прибавь 5;

2. умножь на b

(b — неизвестное натуральное число; $b \geq 2$).

Выполняя первую из них, Гамма увеличивает число на экране на 5, а выполняя вторую, умножает это число на b . Программа для исполнителя Гамма — это последовательность номеров команд. Известно, что программа 11121 переводит число 4 в число 81. Определите значение b .

6. Тип 6 № 10458

Ниже приведена программа, записанная на пяти языках программирования.

Бейсик	Python
<pre data-bbox="201 315 740 645"> DIM s, t AS INTEGER INPUT s INPUT t IF s > 10 OR t > 10 THEN PRINT 'YES' ELSE PRINT 'NO' ENDIF </pre>	<pre data-bbox="818 315 1270 577"> s = int(input()) t = int(input()) if s > 10 or t > 10: print("YES") else: print("NO") </pre>
Паскаль	Алгоритмический язык
<pre data-bbox="201 734 740 1064"> var s, t: integer; begin readln(s); readln(t); if (s > 10) or (t > 10) then writeln('YES') else writeln('NO') end. </pre>	<pre data-bbox="818 734 1302 1104"> алг нач цел s, t ввод s ввод t если s > 10 или t > 10 то вывод "YES" иначе вывод "NO" все кон </pre>
C++	
<pre data-bbox="201 1218 740 1675"> #include <iostream> using namespace std; int main() { int s, t; cin >> s; cin >> t; if (s > 10 t > 10) cout << "YES"; else cout << "NO"; return 0; } </pre>	

Было проведено 9 запусков программы, при которых в качестве значений переменных s и t вводились следующие пары чисел:

(1, 2); (11, 2); (1, 12); (11, 12); (−11, −12); (−11, 12); (−12, 11); (10, 10); (10, 5).

Сколько было запусков, при которых программа напечатала «YES»?

7. Тип 7 № 37

Доступ к файлу **tiger.doc**, находящемуся на сервере **zoo.org**, осуществляется по протоколу **http**. Фрагменты адреса файла закодированы буквами от А до Ж. Запишите последовательность этих букв, кодирующую адрес указанного файла в сети Интернет.

- А) .doc
- Б) zoo
- В) /
- Г) ://
- Д) tiger
- Е) .org
- Ж) http

8. Тип 8 № 10960

В языке запросов поискового сервера для обозначения логической операции «ИЛИ» используется символ «|», а для логической операции «И» — символ «&».

В таблице приведены запросы и количество найденных по ним страниц некоторого сегмента сети Интернет.

Запрос	Найдено страниц (в тысячах)
Сириус & Вега	260
Вега & (Сириус Арктур)	467
Сириус & Вега & Арктур	131

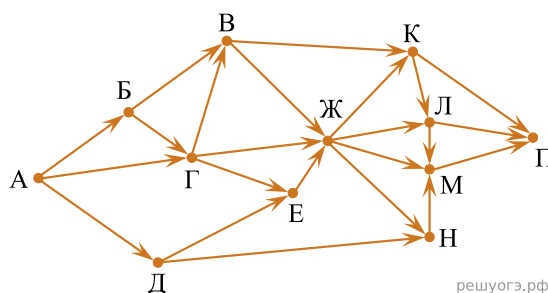
Какое количество страниц (в тысячах) будет найдено по запросу Вега & Арктур ?

Считается, что все запросы выполнялись практически одновременно, так что набор страниц, содержащих все искомые слова, не изменялся за время выполнения запросов.

9. Тип 9 № 11021

На рисунке — схема дорог, связывающих города А, Б, В, Г, Д, Е, Ж, К, Л, М, Н, П. По каждой дороге можно двигаться только в одном направлении, указанном стрелкой.

Сколько существует различных путей из города А в город П, проходящих через город Л?

**10. Тип 10 № 10323**

Среди приведенных ниже трех чисел, записанных в различных системах счисления, найдите максимальное и запишите его в ответе в десятичной системе счисления. В ответе запишите только число, основание системы счисления указывать не нужно.

23_{16} , 32_8 , 11110_2 .

11. Тип 11 № 10506

В одном из произведений И. С. Тургенева, текст которого приведен в подкаталоге **Тургенев** каталога **ДЕМО-12**, присутствует эпизод, в котором упоминается город Сорренто. С помощью поисковых средств операционной системы и текстового редактора выясните название этого произведения. В ответ запишите название произведения без кавычек.

Выполните задание, распаковав архив на своем компьютере.

[ДЕМО-12.rar](#)

12. Тип 12 № 18042

Сколько файлов с расширением ttf объемом более 2 Мбайт каждый содержится в подкаталогах каталога **ДЕМО-12**? В ответ укажите только число.

Выполните задание, распаковав архив на своем компьютере.

[Файлы 12.rar](#)

13. Тип 13 № 11076

Выберите ОДНО из предложенных ниже заданий: 13.1 или 13.2.

13.1 Используя информацию и иллюстративный материал, содержащийся в каталоге «Белый медведь», создайте презентацию из трех слайдов на тему «Белый медведь». В презентации должны содержаться краткие иллюстрированные сведения о внешнем виде, об ареале обитания, образе жизни и рационе белых медведей. Все слайды должны быть выполнены в едином стиле, каждый слайд должен быть озаглавлен.

Презентацию сохраните в файле, имя которого Вам сообщат организаторы экзамена. Файл ответа необходимо сохранить в одном из следующих форматов: *.odp, или *.ppt, или *.pptx.

[Белый медведь.rar](#)

Требования к оформлению презентации

1. Ровно три слайда без анимации. Параметры страницы (слайда): экран (16:9), ориентация альбомная.

2. Содержание, структура, форматирование шрифта и размещение изображений на слайдах:

- первый слайд — титульный слайд с названием презентации; в подзаголовке титульного слайда в качестве информации об авторе презентации указывается идентификационный номер участника экзамена;

- второй слайд — основная информация в соответствии с заданием, размещенная по образцу на рисунке макета слайда 2:

- заголовок слайда;

- два блока текста;

- два изображения;

- третий слайд — дополнительная информация по теме презентации, размещенная по образцу на рисунке макета слайда 3:

- заголовок слайда;

- три изображения;

- три блока текста.

На макетах слайдов существенным является наличие всех объектов, включая заголовки, их взаимное расположение. Выравнивание объектов, ориентация изображений выполняются произвольно в соответствии с замыслом автора работы и служат наилучшему раскрытию темы.

	<p>Макет 1 слайда Тема презентации</p>
	<p>Макет 2 слайда Основная информация по теме презентации</p>
	<p>Макет 3 слайда Дополнительная информация по теме презентации</p>

РЕШУ ОГЭ.РФ

В презентации должен использоваться единый тип шрифта.

Размер шрифта: для названия презентации на титульном слайде — 40 пунктов; для подзаголовка на титульном слайде и заголовков слайдов — 24 пункта; для подзаголовков на втором и третьем слайдах и для основного текста — 20 пунктов.

Текст не должен перекрывать основные изображения или сливаться с фоном.

13.2 Создайте в текстовом редакторе документ и напишите в нем следующий текст, точно воспроизведя все оформление текста, имеющееся в образце.

Данный текст должен быть набран шрифтом размером 14 пунктов обычного начертания. Отступ первой строки первого абзаца основного текста — 1 см. Расстояние между строками текста не менее одинарного, но не более полуторного междустрочного интервала.

Основной текст выровнен по ширине; в ячейках первого столбца таблицы применено выравнивание по левому краю, в ячейках второго столбца — по центру. В основном тексте и таблице есть слова, выделенные полужирным, курсивным шрифтом и подчеркиванием. Ширина таблицы меньше ширины основного текста. Таблица выровнена на странице по центру горизонтали.

При этом допустимо, чтобы ширина Вашего текста отличалась от ширины текста в примере, поскольку ширина текста зависит от размеров страницы и полей. В этом случае разбиение текста на строки должно соответствовать стандартной ширине абзаца.

Интервал между текстом и таблицей не менее 12 пунктов, но не более 24 пунктов.

Текст сохраните в файле, имя которого Вам сообщат организаторы. Файл ответа необходимо сохранить в одном из следующих форматов: *.odt, или *.doc, или *.docx.

Наша страна **Российская Федерация. Конституция РФ** — Основной закон Российской Федерации. **Глава государства** — Президент РФ. Законодательная власть в нашей стране осуществляется Федеральным Собранием РФ, законодательными собраниями субъектов РФ. Их главная задача — разработка и принятие необходимых стране законов. Исполнительная власть осуществляется Правительством РФ, федеральными и региональными министерствами и ведомствами. Они организуют жизнь общества: обеспечивают безопасность и правопорядок, проводят экономическую политику. Государственными символами нашей страны являются гимн, герб с двуглавым орлом и бело-сине-красный флаг.

Территория	17 125 191 км ²
Население	146 780 720 чел.
Количество субъектов	85

СДАМГИА.РФ

14. Тип 14 № 10573

В электронную таблицу занесли результаты тестирования учащихся по географии и информатике. Вот первые строки получившейся таблицы:

	A	B	C	D
1	Ученик	Школа	География	Информатика
2	Лиштаев Евгений	1	81	79
3	Будин Сергей	2	63	90
4	Христич Анна	6	62	69
5	Иванов Данила	7	63	74
6	Глотова Анастасия	4	50	66
7	Лещенко Владислав	1	60	50

В столбце A указаны фамилия и имя учащегося; в столбце B — номер школы учащегося; в столбцах C, D — баллы, полученные, соответственно, по географии и информатике. По каждому предмету можно было набрать от 0 до 100 баллов. Всего в электронную таблицу были занесены данные по 272 учащимся. Порядок записей в таблице произвольный.

Выполните задание.

Откройте файл с данной электронной таблицей (расположение файла Вам сообщат организаторы экзамена). На основании данных, содержащихся в этой таблице, ответьте на два вопроса.

1. Сколько учащихся школы № 2 набрали по информатике больше баллов, чем по географии? Ответ на этот вопрос запишите в ячейку F3 таблицы.

2. Сколько процентов от общего числа участников составили ученики, получившие по географии больше 50 баллов? Ответ с точностью до одного знака после запятой запишите в ячейку F5 таблицы.

3. Постройте круговую диаграмму, отображающую соотношение учеников из школ «1», «3» и «4». Левый верхний угол диаграммы разместите вблизи ячейки G6.

[task 14.xls](#)

15. Тип 15 № 441

Исполнитель Робот умеет перемещаться по лабиринту, начерченному на плоскости, разбитой на клетки. Между соседними (по сторонам) клетками может стоять стена, через которую Робот пройти не может. У Робота есть девять команд. Четыре команды — это команды-приказы:

вверх вниз влево вправо

При выполнении любой из этих команд Робот перемещается на одну клетку соответственно: вверх ↑ вниз ↓, влево ←, вправо →. Если Робот получит команду передвижения сквозь стену, то он разрушится. Также у Робота есть команда **закрасить**, при которой закрашивается клетка, в которой Робот находится в настоящий момент.

Еще четыре команды — это команды проверки условий. Эти команды проверяют, свободен ли путь для Робота в каждом из четырех возможных направлений:

сверху свободно снизу свободно слева свободно справа свободно

Эти команды можно использовать вместе с условием «**если**», имеющим следующий вид:
если условие то
последовательность команд
все

Здесь *условие* — одна из команд проверки условия. *Последовательность команд* — это одна или несколько любых команд-приказов. Например, для передвижения на одну клетку вправо, если справа нет стенки, и закрашивания клетки можно использовать такой алгоритм:

если справа свободно то
вправо
закрасить
все

В одном условии можно использовать несколько команд проверки условий, применяя логические связки **и**, **или**, **не**, например:

если (справа свободно) и (не снизу свободно) то
вправо
все

Для повторения последовательности команд можно использовать цикл «**пока**», имеющий следующий вид:

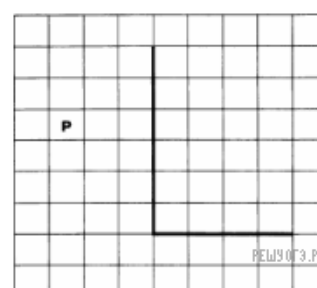
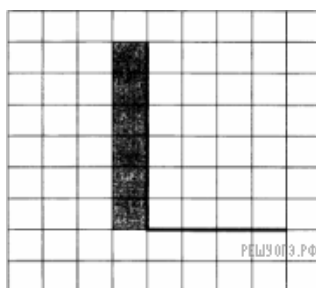
нц пока условие
последовательность команд
кц

Например, для движения вправо, пока это возможно, можно использовать следующий алгоритм:

нц пока справа свободно
вправо
кц

Выполните задание.

На бесконечном поле имеется вертикальная стена. Длина стены неизвестна. От нижнего конца стены вправо отходит горизонтальная стена также неизвестной длины. Робот находится в клетке, расположенной слева от вертикальной стены и выше горизонтальной стены. На рисунке указан один из возможных спос



обов расположения стен и Робота (Робот обозначен буквой «Р»).

Напишите для Робота алгоритм, закрашивающий все клетки, расположенные слева от вертикальной стены и примыкающие к ней. Требуется закрасить только клетки, удовлетворяющие данному условию. Например, для приведенного выше рисунка Робот должен закрасить следующие клетки (см. рис.).

Конечное расположение Робота может быть произвольным. Алгоритм должен решать задачу для произвольного размера поля и любого допустимого расположения стен внутри прямоугольного поля. При исполнении алгоритма Робот не должен разрушиться, выполнение алгоритма должно завершиться. Алгоритм может быть выполнен в среде формального исполнителя или записан в текстовом редакторе. Сохраните алгоритм в текстовом файле.

15.2 Напишите программу для решения следующей задачи. Камера наблюдения регистрирует в автоматическом режиме скорость проезжающих мимо нее автомобилей, округляя значения скорости до целых чисел. Необходимо определить:

- 1) разность максимальной и минимальной скоростей автомобилей;
- 2) количество автомобилей, скорость которых не превышала 30 км/ч.

Программа получает на вход число проехавших автомобилей N ($1 \leq N \leq 30$), затем указываются их скорости. Значение скорости не может быть меньше 1 и больше 300. Программа должна сначала вывести разность максимальной и минимальной скоростей автомобилей, затем количество автомобилей, скорость которых не превышала 30 км/ч.

Пример работы программы:

Входные данные	Выходные данные
4	33
74	0
69	
63	
96	